

Муниципальное образование «Гурьевский муниципальный округ»
ВСЕРОССИЙСКАЯ ОЛИМПИАДА ШКОЛЬНИКОВ ПО ИСТОРИИΣ59

(школьный этап)

2023 – 2024 учебный год

7 класс


Максимальное количество баллов -83

Время выполнения работы – ** минут.

Задание 1. (максимальный балл – 8 баллов)

Представьте, что Вы – экскурсовод в музее и Вам нужно провести экскурсию по выставке русской исторической живописи. Перед Вами две картины. Ваша задача: объяснить экскурсантам, что за сюжеты на них изображены. Для этого Вам необходимо:

- 1) Указать какое событие истории России отражено на картине.
- 2) Указать дату данного события.
- 3) Указать место, где произошло данное событие.
- 4) Назвать имя исторического деятеля России, с именем которого связано данное событие.


8*Изображения:*

Картина 1

Ответ (картина 1):

1. событие Крещение +Русси2. дата 988 +3. место Киев +4. деятель ВладимирКрасно солнышко +

Ответ (картина 2):

+ 1. событие Ледовое побоище+ 2. дата 1242+ 3. место Чудское о.+ 4. деятель А. Невский

Задание 2. (максимальный балл – 10 баллов)

Установите верность или ложность утверждений. «Да» или «Нет»? Если Вы согласны с утверждением, напишите «ДА», если не согласны – «НЕТ». Внесите свои ответы в таблицу.

1. В IX веке возникает полюдь – сбор дани общинников в пользу князя как возмещение за военные и управленческие услуги.
2. «Правда Ярославичей» ввела систему штрафов за любые виды преступлений.
3. В 1147 году Москва становится центром объединения русских земель.
4. Посадник – это глава городской администрации в Новгороде Великом в XI-XV вв.
5. Одной из целей походов крестоносцев было распространение католической веры в завоеванных землях.
6. Согласно военной реформе 1555-1556 гг., основу войска составило дворянское ополчение.
7. Одним из последствий Смуты явилось улучшение внешнеполитической ситуации для России: возврат ряда территорий (Смоленск, Северские земли) и выход к Балтийскому морю.
8. Первые мануфактуры в России появляются во время правления Бориса Годунова.
9. Соборное уложение 1649 года отменило Юрьев день.
10. При Иване IV начинает действовать первая государственная типография.

5

Ответ:

1	2	3	4	5	6	7	8	9	10
НЕТ	да +	да	да	да +	нет +	нет +	да	да +	да +

Задание 3. (максимальный балл – 6 баллов). Дайте определение данных понятий:

6

- Монополия – это права торговли данными товарами на данном месте
- Колония – это ~~зависимое гос-во~~ зависимое гос-во от метрополии
- Революция – это быстрое коренное изменение
- Метрополия – это страна имеющая колонии
- Мануфактура – это предприятие ручн. труда г. отдален. произв. операциями
- Абсолютизм – это абсолютная власть монарха

Задание 4.

Какое событие «Повесть временных лет» относит к 862 г.?

1

- А) призвание Рюрика в Новгород на княжение
- Б) крещение князя Владимира
- В) первый договор князя Олега с Византией
- Г) восстание древлян

Задание 5. (максимальный балл – 7 баллов)

7

Установите соответствие между событием и князем, с именем которого связано данное событие

Имя князя	Событие
1. Александр Невский	А. Объединение Киева и Новгорода, образование Древнерусского государства <u>4</u>
2. Владимир Красное Солнышко	Б. Крещение Руси <u>2</u>
3. Иван III	В. Ледовое побоище <u>1</u>
4. Князь Олег	Г. Куликовская битва <u>5</u>
5. Дмитрий Донской	Д. Стояние на Угре <u>3</u>
6. Княгиня Ольга	Е. Реформа на Руси, в результате которой были установлены уроки и погосты <u>6</u>
7. Ярослав Мудрый	Ж. Положено начало созданию на Руси письменного свода законов <u>7</u>

Задание 6. (максимальный балл - 6 баллов)

4

По какому принципу образованы ряды:

6.1. Закупы, рядовичи, смерды.

Принцип: лично зависимые крестьяне в Киевской Руси ++

6.2. Что объединяет эти года 1478 г., 1485 г., 1514 г.

Принцип: объединение земель вокруг Москвы присоедин. Твери, Смоленска, Новгорода. ++

6.3. Волостель, голова, посадник, наместник.

Принцип: Люди которые управляют зависимыми крестьянами

Задание 7. (максимальный балл - 2 балла)

Личность:

- 1) Христофор Колумб
- 2) Фернан Магеллан
- 3) Васко Нуньес Бальбоа
- 4) Бартоломеу Диаш

Деятельность:

- А) проложен путь на Восток через Индийский Океан
- Б) первым увидел Тихий океан
- В) первое кругосветное путешествие
- Г) открытие нового континента

1	2	3	4
2	в	а	б

2

+ +

Задание 8. (максимальный балл - 27 балла)

12

Рассмотрите миниатюру и выполните задания.

8.1. Укажите год, когда произошли события, изображенные на миниатюре. Укажите название географического объекта, упоминаемого на миниатюре. (2 балла) 1480 р. Угра ++

8.2. Укажите имя союзника полководца, упомянутого в тексте миниатюры. Назовите причину, по которой этот союзник в тексте не упомянут? (10 баллов)

8.3. Приведенная миниатюра является частью большой иллюстрированной книги. Укажите название этой книги, время, когда она была создана с точностью до половины века. Укажите имя правителя, в годы правления которого было создано это произведение. Укажите (с датами) и не менее двух событий внешней политики этого правителя. (15 баллов)

8.2 - король Столыский Коземей IX Ячлон, он не пришел на помощь к Хану Ахмату, потому что воевал с Крымским ханом Менши Турем (союзн. Иван III) 10



Ответ: _____

Задание 9. (максимальный балл – 6 баллов)
 Подпишите имена русских князей.

5



А) А. Невский
 +



Б) Д. Донской
 +



В) Иван III
 +



Г) Горышч

+



Д) Святослав

+



Е) Мономах

Задание 10. Внимательно рассмотрите карту. Ответьте на вопросы. (максимальный балл – 10 баллов)

1. Укажите век, к которому относятся события, обозначенные на схеме (1 балл)

+ Ответ XIV 1380

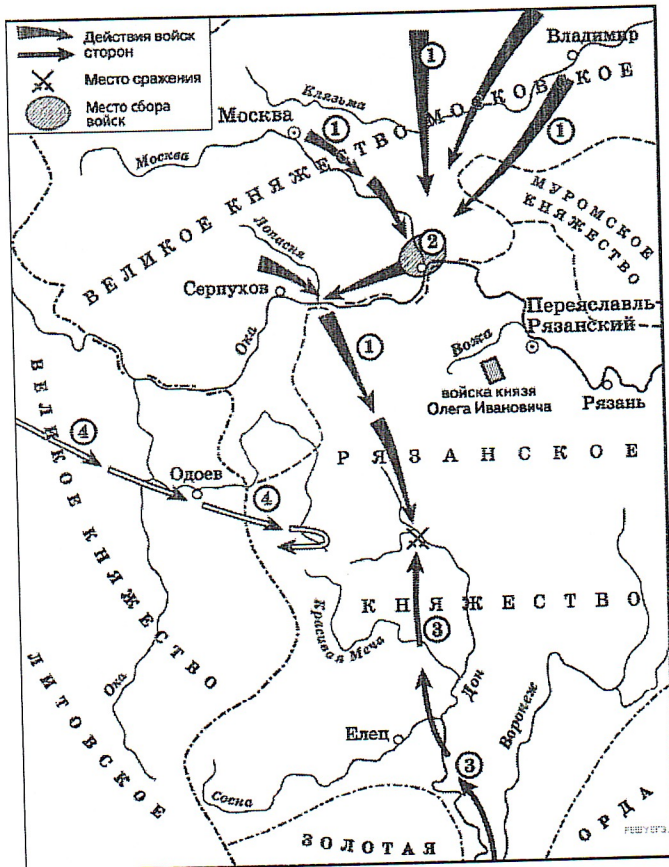
2. Укажите полководца, возглавившего поход, направление которого обозначено на схеме цифрой «3» (2 балла)

+ Ответ Мамай

3. Укажите название города, обозначенного под цифрой «2» (1 балл)

Ответ _____

4. Напишите значение битвы для последующих событий Отечественной истории. Не менее трех положений. (6 баллов).



Кушниковская бурла показала, что может по-
 бедить Орду. Русские поверели в свои силы,
 но для этого нужно объединить все силы нашей
 земли. Центром этих земель стал Москва,
 отношения с Ордой стали совсем дружными.

++ ++ ++

9

Шкала оценивания:

№ задания	1	2	3	4	5	6	7	8.1	8.2	8.3	9	10.1	10.2	10.3	10.4	Всего
Мак балл	8	10	6	1	7	6	2	2	10	15	6	1	2	1	6	83
Баллы участника	8	5	6	1	7	4	2	2	10	-	5	1	2	-	6	59