

**Всероссийская олимпиада школьников по географии. 2023-2024 учебный год.**

**Школьный этап. 8 класс**

*Начинать работу можно с любого задания, однако, мы рекомендуем выполнять задания в том порядке, в котором они даны. Если какое-то задание вызывает у вас затруднение, пропустите его и постарайтесь выполнить те, в ответах на которые вы уверены. К пропущенным заданиям можно будет вернуться, если у вас останется время.*

**Общее время выполнения работы - 90 минут**

**Максимальная сумма баллов – 64**

*Во время выполнения заданий не допускается использование атласов и других источников информации.*

**Теоретический тур**

**Задание 1. (6 баллов)**

Ниже перечислены утверждения об одной из частей света. Определите, о какой части света идёт речь, и укажите номера двух лишних утверждений. К каким частям света относятся лишние утверждения? Назовите пункт, о котором говорится в утверждении № 6.

1. В этой части света обитает большая панда.
2. В этой части света занимался исследованиями Н.М.Пржевальский.
3. В этой части света находится мыс Рока.
4. В этой части света обитает страус нанду.
5. В этой части света самая высокая численность населения.
6. В этой части света находится пункт, где отмечено максимальное количество осадков на Земле.
7. В этой части света находится отметка высоты 8848 м.

Часть света Австралия.

Лишнее утверждение: номер 5. часть света Индия.

Лишнее утверждение: номер 8. часть света \_\_\_\_\_

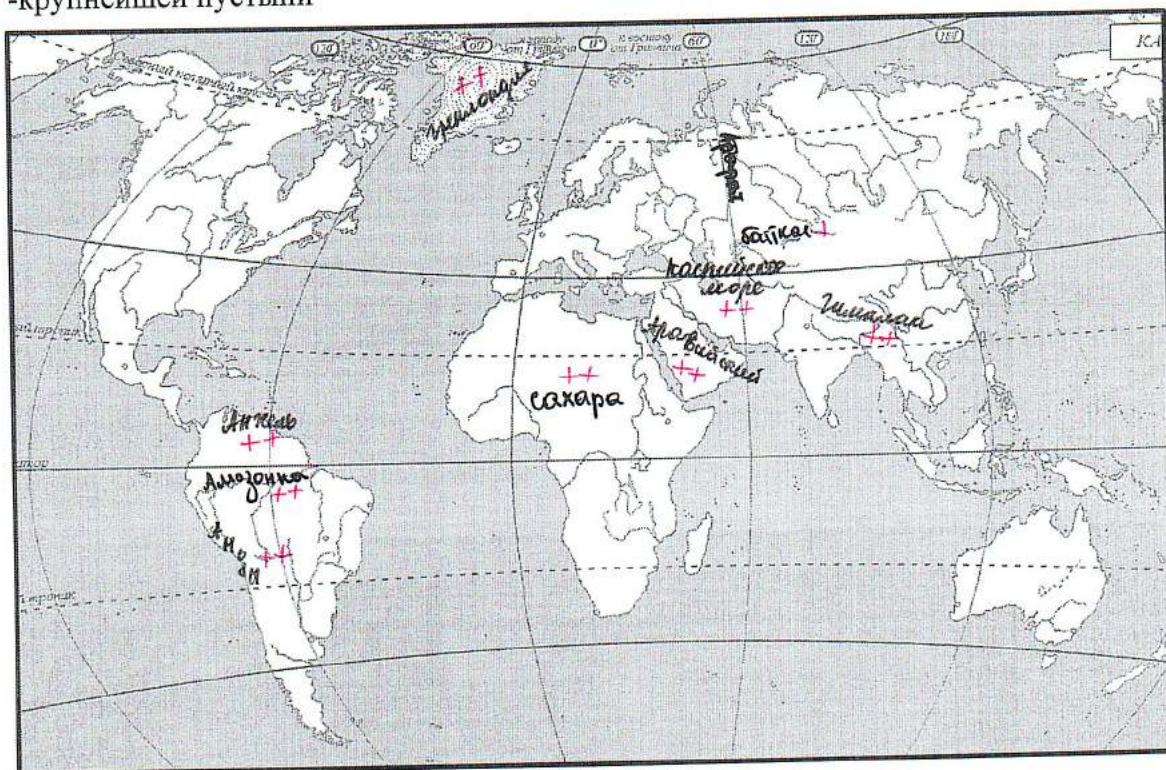
Пункт \_\_\_\_\_



**Задание 2. (14 баллов)**

Вспомните природные рекорды мира. На контурной карте надпишите названия географических объектов-рекордсменов:

- самого глубокого озера
- самого большого по площади озера
- высочайшего водопада
- самого высокого действующего вулкана
- крупнейшего острова
- самой длинной и многоводной реки
- самой высокой горной системы
- самого большого моря
- самой длинной горной системы
- самого большого полуострова
- крупнейшей пустыни



Как называется крупнейшее государство самого большого полуострова?

Какому государству принадлежит самый большой остров?

В какой стране находится устье самой длинной реки?

8,5  
+ 1  
-----  
9,5



Северная Америка - Бразилия +**Задание 3. (3 балла)**



В каком направлении дуют ночные бризы и почему они образуются на берегах морей?

Бриз дует с суши на море. Суша быстрее остывает, а море дольше теплее. +

**Задание 4. (9 баллов)**

Дополните таблицу, выбрав названия растений из списка: виктория, раффлезия, лиственница, эвкалипт, саксаул, баобаб, финиковая пальма, кокосовая пальма, ковыль. Названия растений, не включённых в таблицу, подпишите под фотографиями.

№	Некоторые особенности растений	Названия растений
1	Вечнозелёное дерево, типичное для Австралии. Из листьев получают масло, применяемое в медицине.	эвкалипт +
2	Многолетняя трава, относящаяся к злаковым и распространённая в степях.	ковыль +
3	Древесное или кустарниковое растение пустынь Азии, хороший закрепитель песков. Зелёные веточки – корм для верблюдов и овец.	Финиковая пальма
4	Хвойное дерево с твёрдой прочной древесиной. Осенью хвоя опадает. Самое распространённое дерево в России.	лиственница +
5	Водное растение Южной Америки. Листья с загнутыми краями диаметром до 2 м выдерживают груз до 50 кг.	Виктория +
6	Растение тропиков и субтропиков Африки и Азии. Плоды съедобны.	саксаул
7	Растёт в тропиках на морских побережьях, на островах. Возделывают главным образом для получения копры.	кокосовая пальма +

А) Раффлезия +Б) Баобаб +

4

**Задание 5. (16 баллов)**

1. В каждом из двух списков найдите и выпишите по 7 понятий (это элементы духовной и материальной культуры, имена, представители органического мира и т.п.), относящихся к одной стране. Определите страны.

1) Сари, хинди, Тадж-Махал, птица киви, Рабиндранат Тагор, рупия, Хоккайдо, «Махабхарата», гора Кука, Махатма Ганди, кимоно, Акира Куросава

птица киви, кимоно, Сари, Акира Куросава, Хоккайдо,

Страна Япония.

2) Суоми, маори, Хельсинки, Лапландия, Веллингтон, Ян Сибелиус, иена, саамы, гаттерия, «Калевала», Инариярви, хокку

калевала, Хельсинки, суоми, саамы 2

Страна Финляндия +

2. Слова, оставшиеся в обоих списках, объедините, а затем разделите на две группы и укажите названия островных государств, с которыми эти понятия связаны.

1)

киви, маори, гора Кука, иена 1,5

Островное государство Новая Зеландия 1

2)

кимоно, Акира Куросава, Хоккайдо, иена 2

Островное государство Япония +

8,5



## Тестовый тур

На каждый вопрос даны четыре варианта ответов.

Выберите только один правильный и внесите его в матрицу ответов.

Максимально 16 баллов, по 1 баллу за каждый правильный ответ.

1. Выберите фамилию первооткрывателя Антарктиды:

- а) Р.Амундсен                      б) И.Крузенштерн  
в) Т.Хейердал                    г) Ф.Беллинсгаузен

2. Какое полезное ископаемое добывают в Калининградской области?

- а) каменный уголь                      б) бокситы  
в) торф                                      г) медные руды

3. Выберите верное утверждение о реке Неман:

- а) Река Шешупе является притоком Немана.  
б) Неман впадает в Калининградский залив.  
в) Исток Немана находится в Калининградской области.  
г) На Немане расположен город Черняховск.

4. Точка с какими координатами наиболее удалена от экватора?

- а) 35° ю.ш. 55° з.д.                      б) 30° с.ш. 45° в.д.  
в) 55° с.ш. 60° в.д.                      г) 60° с.ш. 35° в.д.

5. В Южной Америке расположено государство:

- а) Боливия                      б) Ботсвана                      в) Ливия                      г) ЮАР

6. Муссонные дожди часто вызывают наводнения на реке:

- а) Хуанхэ                      б) Енисей                      в) Дунай                      г) Тигр

7. Какой стране принадлежат Канарские острова?

- а) Марокко                      б) Португалия                      в) Алжир                      г) Испания

8. Холодным течением является:

- а) Бразильское                      б) Перуанское  
в) Гольфстрим                      г) Куроисио

9. Какой остров раньше носил название Цейлон?

- а) Шри-Ланка     б) Исландия    в) Сахалин    г) Хоккайдо

10. Как называется самая восточная точка Северной Америки?

- а) Кабу-Бранку     б) Сент-Чарльз  
в) Байрон    г) Рас-Хафун

11. На каком острове находится Джакарта?

- а) Ява     б) Суматра    в) Калимантан    г) Сулавеси

12. Как называется столица Канады?

- а) Монреаль    б) Квебек    в) Ванкувер     г) Оттава

13. Какая пустыня является береговой?

- а) Гоби     б) Намиб    в) Каракумы    г) Такла-Макан

14. Какое озеро Африки расположено южнее других?

- а) Рудольф    б) Танганьика     в) Ньяса    г) Чад

15. Берега какого материка омывает море Уэдделла?

- а) Северная Америка    б) Евразия    в) Австралия    г) Антарктида

16. Где обитает коала?

- а) Африка    б) Южная Америка     в) Австралия    г) Евразия

Матрица для записи ответов

1	2	3	4	5	6	7	8	9	10
а	в +	а +	б	б	а +	а	а +	б	а +

11	12	13	14	15	16
б	в +	б +	в +	а	б +

9